

**Provas Especialmente Adequadas Destinadas a Avaliar a Capacidade
para a Frequência dos Cursos Superiores do Instituto Politécnico de Leiria dos
Maiores de 23 Anos – 2015**

**Prova escrita de conhecimentos específicos
De GEOGRAFIA**

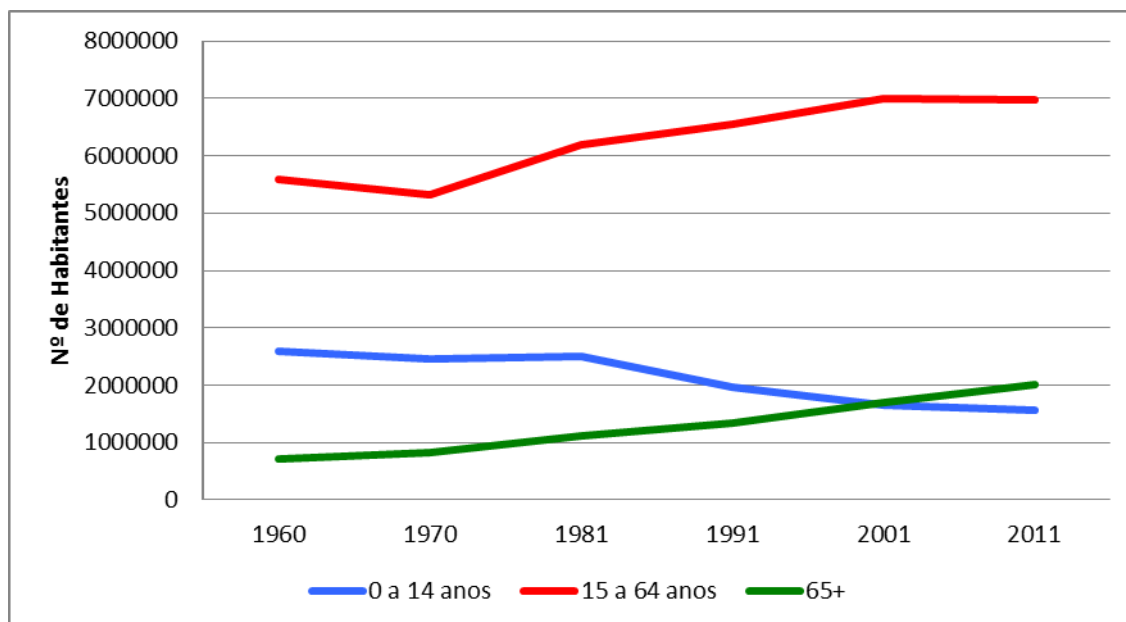
Instruções gerais

1. A prova é constituída por 6 grupos.
2. A duração da prova é de 2 horas, estando prevista uma tolerância de 30 minutos;
3. Só pode utilizar para elaboração das suas respostas e para efetuar os rascunhos as folhas distribuídas pelo docente vigilante, salvo se previsto outro procedimento;
4. Não utilize qualquer tipo de corretor. Se necessário risque ou peça uma troca de folha;
5. Não é autorizada a utilização de quaisquer ferramentas de natureza eletrónica (telemóvel, pda, computador portátil, leitores/gravadores digitais de qualquer natureza ou outros não especificados), excepto máquina de calcular para realizar cálculos e obter representações gráficas de funções;
6. Deverá disponibilizar ao docente que está a vigiar a sala, sempre que solicitado, um documento válido de identificação (cartão de cidadão, bilhete de identidade, carta de condução ou passaporte);
7. Todas as respostas de opção, correspondência ou de assinalar verdadeiro ou falso devem ser transcritas para a folha de prova;
8. A seguir ao número de cada questão encontra entre parênteses a respetiva cotação.

Questão 01 (4 valores)

O gráfico da Figura 1 representa a evolução percentual dos grandes grupos etários, em Portugal, entre 1960 e 2011.

Figura 1 – Gráfico representativo da evolução dos grupos etários, em Portugal



Fonte: Estatísticas Demográficas, INE, consultado em maio de 2015.

Dos itens 1.1 a 1.4 selecione a única opção que permite obter uma afirmação correta. Escreva, na folha de respostas, a letra que identifica a opção escolhida.

1.1 O aumento do índice de envelhecimento da população portuguesa, no período representado na Figura 1, resultou

- (A) do crescimento do grupo dos idosos relativamente ao grupo dos jovens.
- (B) da diminuição do grupo dos idosos relativamente ao grupo dos adultos.
- (C) da diminuição do grupo dos jovens relativamente ao grupo dos adultos.
- (D) do crescimento do grupo dos jovens relativamente ao grupo dos idosos.

1.2 A evolução percentual dos diferentes grupos etários, observável na Figura 1, tem consequências demográficas e socioeconómicas, de entre as quais se destacam

- (A) o aumento da emigração e o aumento do índice de dependência dos jovens.
- (B) a não renovação de gerações e a necessidade de aumentar a idade da reforma.
- (C) a imposição de limites à imigração e a redução do índice de dependência dos idosos.
- (D) o crescimento da população residente e a necessidade de reduzir a carga fiscal.

1.3 O declínio da taxa de fecundidade em Portugal nos últimos trinta anos deve-se, sobretudo,

- (A) ao aumento do uso de contraceptivos e à diminuição dos gastos com a educação dos filhos.
- (B) ao aumento do individualismo na sociedade portuguesa e à diminuição da imigração.
- (C) à redução da população adulta mais jovem e ao aumento dos apoios sociais às famílias mais pobres.
- (D) à maior participação das mulheres no mercado de trabalho e ao aumento da escolaridade feminina.

1.4 Para inverter a tendência de envelhecimento demográfico que o gráfico da Figura 1 já evidencia, devem adotar-se medidas como

- (A) a criação de incentivos à emigração da população ativa e o alargamento dos horários do ensino pré-escolar.
- (B) o aumento da escolaridade obrigatória e o aumento dos impostos cobrados aos casais sem filhos.
- (C) o prolongamento da licença de maternidade e o aumento considerável dos benefícios fiscais a famílias numerosas.
- (D) a redução dos abonos de família e o alargamento da oferta de consultas de planeamento familiar.

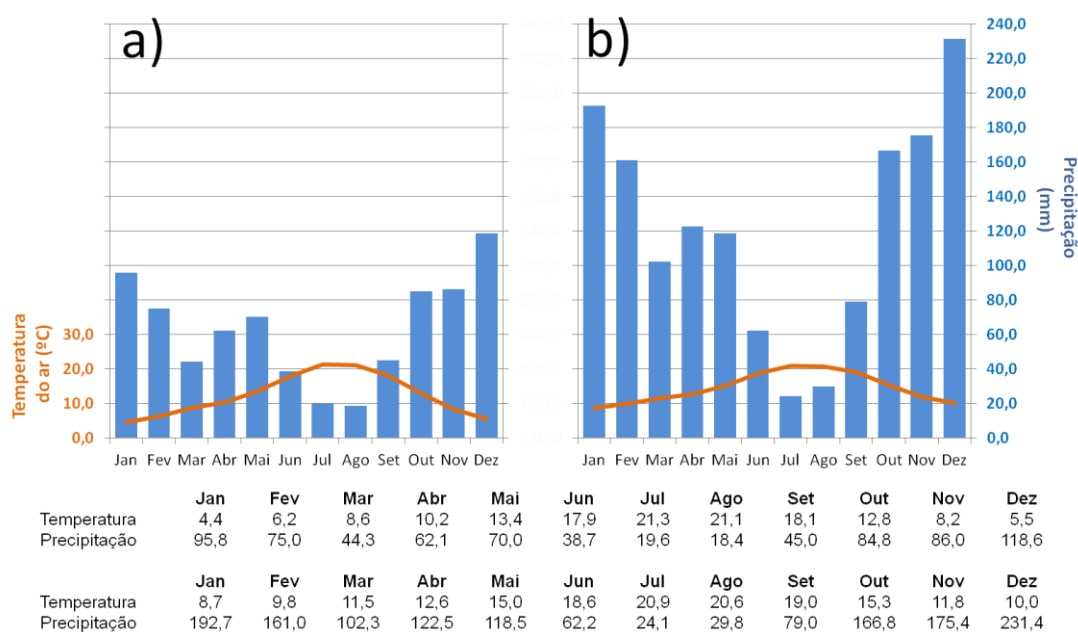
1.5. Considerando a Figura 1, comente a evolução da estrutura etária em Portugal de 1960 a 2011, referindo duas causas e duas consequências do envelhecimento da população. (2 valores)

Questão 02 (1 valor)

2.1. Refira em que datas se dão os solstícios no hemisfério norte? **Descreva** o que acontece nestes dias em termos de inclinação dos raios solares e de duração do dia/noite.

Questão 03 (5,5 valores)

3.1. Os gráficos termopluiométricos da Figura 2 dizem respeito a duas estações meteorológicas de Portugal continental: Braga e Bragança. **Identifique** cada uma delas e justifique as suas diferenças. (3,5 valores)



Normais climatológicas (1971-2000) Fonte: IPMA

3.2. Será expectável o mesmo tipo de precipitação durante a passagem de uma frente fria e de uma frente quente? **Justifique** detalhadamente a sua resposta. (2 valores)

Questão 04 (1,5 valores)

4.1. **Descreva** o que se entende por *plataforma continental* assim como o modo como esta contribui para o setor pesqueiro em Portugal.

Questão 05 (4 valores)

A Figura 3 representa uma vista aérea da cidade de Beja, na qual está delimitado o centro histórico.

Figura 3 – Vista aérea da cidade de Beja.



Fonte: Google Maps, consultado em maio de 2015

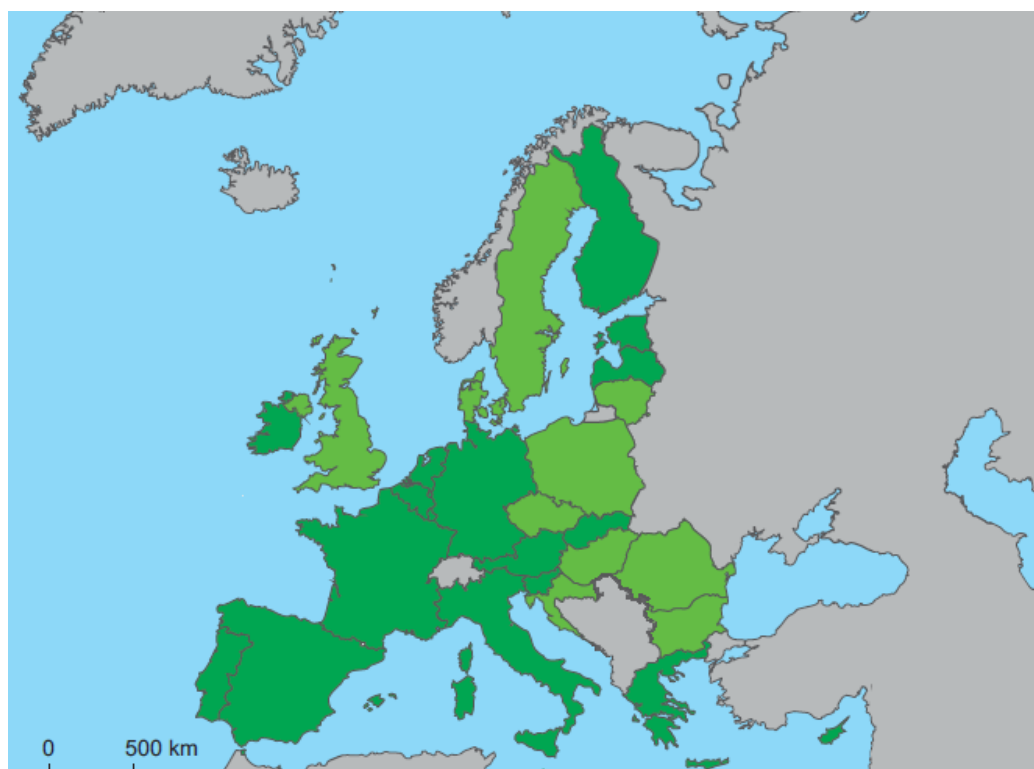
- 5.1. Refira duas características morfológicas de centros históricos como o da cidade de Beja, delimitado na Figura 3. (0,5 valores)
- 5.2. Apresente duas medidas que podem contribuir para a recuperação da atratividade de áreas como a delimitada na Figura 3. (1 valor)
- 5.3. Mencione duas causas do despovoamento que se tem verificado no centro histórico da maioria das cidades portuguesas. (0,5 valores)
- 5.4. Explique de que modo o desenvolvimento de cidades médias, como Beja, pode atenuar o desequilíbrio da rede urbana portuguesa, tendo em conta os tópicos de referência seguintes:
 - o investimento em infraestruturas e em equipamentos especializados;
 - o aproveitamento dos recursos da região.

Em cada um dos tópicos, a explicação deve focar dois aspetos. (2 valores)

Questão 06 (4 valores)

A Figura 4 representa os países da União Europeia (UE), diferenciados em função da sua integração na Zona Euro.

Figura 4 - Países da União Europeia e sua integração na Zona Euro



 Países da União Europeia que não integram a Zona Euro

 Países da União Europeia que integram a Zona Euro

Fonte: eu.europa.eu/economy_finance/euro/index_pt.htm

Dos itens 6.1 a 6.4 selecione a única opção correta. Escreva, na folha de respostas, a letra que identifica a opção escolhida.

6.1. De acordo com a Figura 4, alguns dos países da UE que não integram a Zona Euro são

- (A) a Lituânia, a Bulgária, a Hungria e o Chipre.
- (B) a Eslováquia, a Eslovénia, a Hungria e o Chipre.
- (C) a República Checa, a Roménia, a Eslováquia e a Eslovénia.
- (D) a República Checa, a Roménia, a Lituânia e a Bulgária.

6.2. Um dos objetivos da União Europeia é a redução das suas disparidades regionais. Para tentar alcançar esse objetivo foram tomadas medidas, como a

- (A) melhoria dos salários nas regiões com um PIB per capita inferior à média comunitária.
- (B) distribuição igualitária de fundos comunitários por todas as regiões deprimidas.
- (C) maior atribuição de fundos comunitários às regiões com um PIB per capita mais baixo.
- (D) fixação, nas áreas rurais, dos imigrantes oriundos do espaço extracomunitário.

6.3. O Tratado que criou oficialmente a União Europeia foi

- (A) o Tratado de Amesterdão
- (B) o Tratado de Maastricht
- (C) o Tratado de Roma
- (D) o Tratado de Nice

6.4. O último Estado a aderir à União Europeia foi

- (A) a Bélgica
- (B) a Eslovénia
- (C) a Letónia
- (D) a Croácia

6.5. Refira duas consequências, para Portugal, do alargamento da União Europeia aos Países da Europa Central e Oriental. (2 valores)

FIM