
Questão 01 (3 valores)

“O território português, situado no extremo ocidental da Península Ibérica (...), é constituído por um rectângulo de 160 km de largura média por 560 km de comprimento.”

BIROT, s/d, pág. 9

- A) Identifique as unidades geográficas que constituem o território nacional. (1,5 valores)
- B) Explique a importância da inserção de Portugal em diferentes espaços, como, por exemplo, a União Europeia. Mencione, também, duas vantagens e duas desvantagens desta inserção. (1,5 valores)

Questão 02 (4,5 valores)

Menos nascimentos significam menos consumidores e se há menos consumo a economia ressent-se. Mas, acima de tudo, a grande preocupação dos Governos é a de que o envelhecimento da população acarreta custos excessivamente elevados para as jovens gerações activas...

Público, 17/11/1995 (adaptado)

- A) O texto refere-se a dois fenómenos demográficos que se têm verificado em Portugal nas últimas décadas. Identifique-os. (1,5 valores)
- B) Explícite três causas que têm contribuído para a evolução destes fenómenos demográficos. (1,5 valores)
- C) Justifique a afirmação que se encontra sublinhada no texto. (1,5 valores)

Questão 03 (5,5 valores)

As figuras 1 e 2 mostram-nos duas realidades sobre a evolução geológica de Portugal Continental.

Fig. 1 -

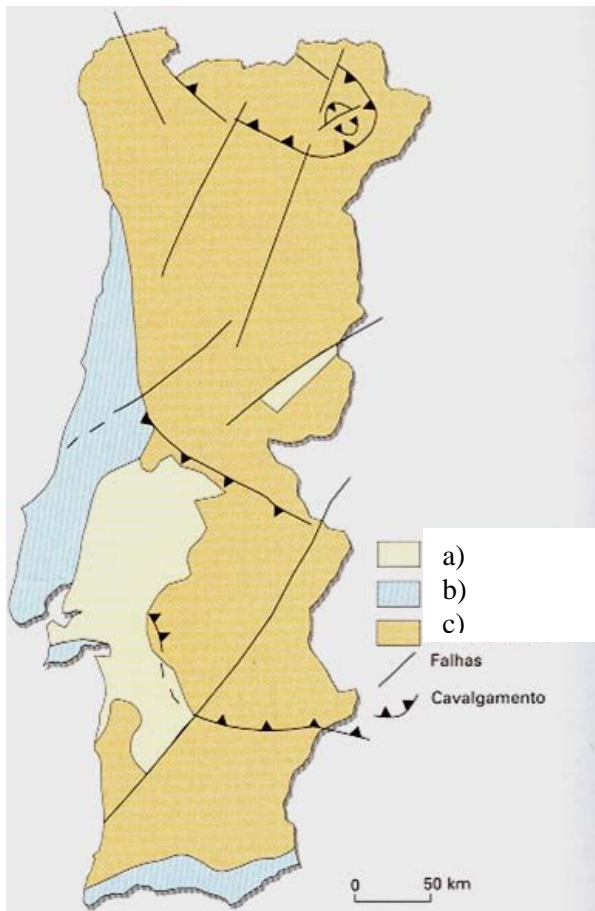
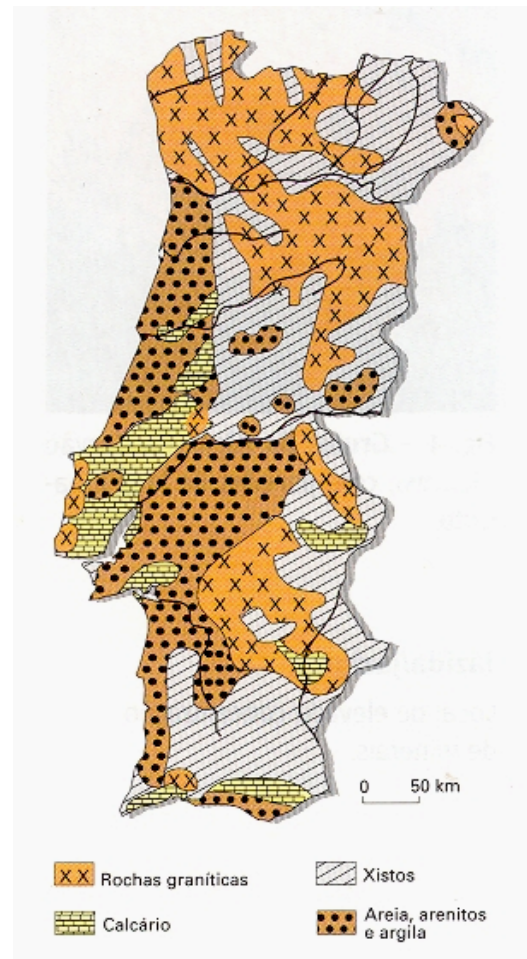


Fig. 2 -



A) Observe as figuras 1 e 2 e faça corresponder a cada uma delas o título correcto, de acordo com a frase indicada a seguir: (1 valor)

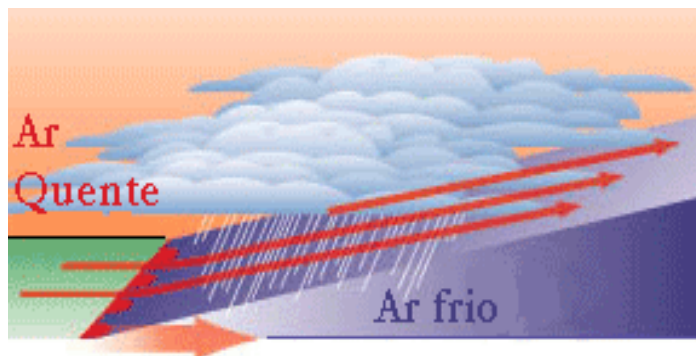
- Estrutura geológica de Portugal Continental
- Unidades morfo-estruturais de Portugal Continental

B) Complete a legenda da Fig. 1. (1,5 valores)

C) Caracterize cada uma das unidades da Fig. 1 tendo, também, em atenção a informação que consta da Fig. 2. (3 valores)

Questão 04 (4 valores)

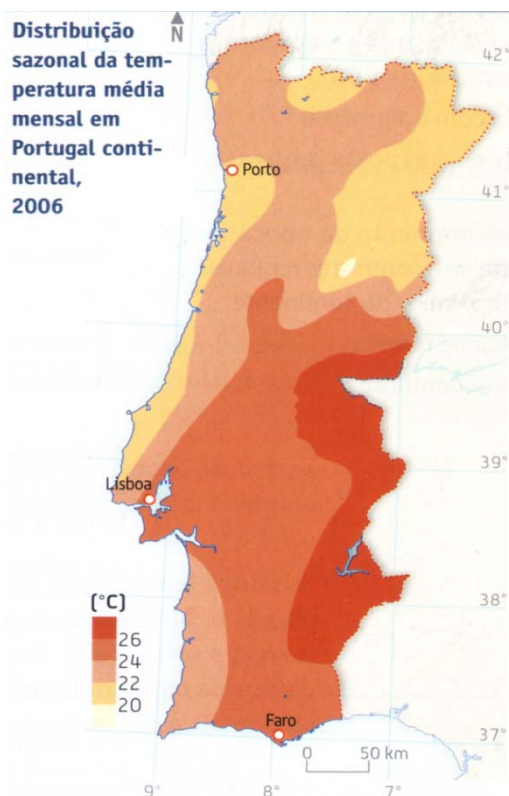
A fig. 3 mostra-nos um tipo de superfície frontal:



- A) Defina superfície frontal. (1,5 valores)
- B) Qual o nome que se dá à superfície frontal característica da Fig. 3. (1 valor)
- C) Como se forma essa superfície frontal? (1,5 valores)

Questão 05 (3 valores)

A Fig. 4 mostra-nos a distribuição sazonal da temperatura média em Portugal continental, em 2006.



- A) A que época do ano se reportará a figura? Justifique. (1 valor)
- B) Explique as diferenças encontradas na variação da temperatura média. (2 valores)